

**Муниципальное образование
Ленинградский район
Муниципальное бюджетное общеобразовательное учреждение
средняя общеобразовательная школа № 3
имени П.А. Любченко станицы Крыловской
муниципального образования
Ленинградский район**



Подготовила

Учитель географии
Бойко Алла Филипповна

станция Крыловская

2021 г.

СОДЕРЖАНИЕ

1. Пояснительная Записка	
2. Экономические районы:	
2. Центральный экономический район	3
3. Центрально-Чернозёмный экономический район	4
4. Волго-Вятский экономический район	5
5. Северо-Западный экономический район	6
6. Калининградская область	7
7. Европейский Север - экономический район	8
8. Поволжье.	9
9. Крымский экономический район	10
10. Северо - Кавказский экономический район	11
11. Уральский экономический район	12
12. Западно-Сибирский экономический район	13
13. Восточно-Сибирский экономический район	14
14. Дальневосточный экономический район	15
15. Ответы на карточки	16-19
16. Список литературы.	20

Пояснительная записка.

Без организации систематического контроля и учета динамики изменения качества знаний каждого учащегося трудно добиться высокого уровня географического образования. Дидактические карточки- задания составлены в соответствии с учебником Географии «География России. Хозяйство и географические районы»; авторов А.И. Алексеева, В.А. Низовцева, Э.В. Ким и др. Соответствуют II разделу «Районы России». Характеристика экономического района обычно дается по плану и рассчитана на несколько тем, поэтому систематически повторяя и контролируя знания карточки – задания помогут учащимся еще раз более ярко представить себе индивидуальные особенности каждого экономического района и их различия т. е. сформировать «Образ экономического района» в целом. Известно, что есть небольшое количество учащихся, которые не нуждаются в систематическом контроле. Как правило, они любят предмет, участвуют в географических олимпиадах различного уровня . Для них существуют отдельные упражнения повышенного уровня сложности. Это карточки - задания, для тематического контроля знаний, рассчитаны как раз на те 90% детей, которые нуждаются в системах контроля. Задания достаточно просты по выполнению и соответствуют обязательному минимуму содержания образования.

Работа с заданиями может осуществляться в письменной форме. Пособие может использоваться при повторении пройденного материала. Листы с заданиями распечатываются и выдаются на парту во время урока. Также их можно выдавать для выполнения домашней работы или ученикам, пропустившим урок. Предлагаемое пособие является систематизированным набором заданий, основное назначение

которых дополнить практическую часть учебника и помочь учителю в осуществлении дифференцированного обучения учащихся.

Карточка 1. *Центральный экономический район*

Задание 1. Укажите количество субъектов, которые входят в состав

Центрального района :

А) 24 Б) 12 В) 13 Г) 6

Задание 2. Выбрать правильный ответ - Из каких субъектов состоит

Центральный район?

- А) Из 12 областей и 1 города федерального значения
- Б) Из 1 республики и 2 областей
- В) Из 3 областей, 2 республик и одного автономного округа
- Г) Только из областей

Задание 3. Указать электростанции расположенные в Центральном районе?

- А) Смоленская
- Б) Воронежская
- В) Балаковская
- Г) Калининская

Задание 4. Что вывозят из Центрального экономического района?

- А) продукты питания
- Б) машины и ткани
- В) нефть и уголь
- Г) зерно и хлопок

Задание 5. Центральный район граничит с:

- А) Литвой и Эстонией
- Б) Белоруссией и Украиной
- В) Украиной и Литвой
- Г) Польшей и Белоруссией

Задание 6. Выберите верные утверждения:

- А) Центральный район является центром европейской части страны
- Б) Есть один город-миллионер
- В) Район богат природными ресурсами
- Г) Выгодное ЭПП заключается в наличии выхода к морям
- Д) В районе развито наукоёмкое машиностроение и химическая промышленность.
- Е) Имеет хорошую обеспеченность транспортными магистралями.

Задание 7. Города науки Центрального района, появившиеся

в советское время:

- А) Муром и Ростов
- Б) Дубна и Обнинск
- В) Электросталь и Новомосковск
- Г) Иваново и Орехово-Зуево



Карточка 2. Центрально-Чернозёмный экономический район

Задание 1. Какие из регионов не входят в состав Центрально-Чернозёмного района?

- А) Тамбовская область
- Б) Курская область
- В) Ростовская область
- Г) Белгородская область

Задание 2. Напишите самый крупный город Центрально-Чернозёмного района

Задание 3. С каким из приведённых ниже соседей Центрально-Чернозёмный район не граничит?

- А) Украина
- Б) Северо-Кавказский район
- В) Центральный район
- Г) Волго-Вятский район

Задание 4. Напишите какие отрасли специализации сельского хозяйства присутствуют в Центрально-Чернозёмном районе

Задание 5. Укажите самый древний город Центрально-Чернозёмного района, который упоминается в летописях 11 века

- А) Липецк
- Б) Белгород
- В) Курск
- Г) Воронеж

Задание 6. Установите соответствие между городами Центрально-Чернозёмного района и их отраслью экономики

А) Воронеж, Белгород

1) электроэнергетика

Б) Курск, Белгород	2) пищевая промышленность
В) Воронеж, Тамбов	3) машиностроение
Г) Курск	4) лёгкая промышленность
Д) Курск, Тамбов	5) химическая промышленность

Задание 7. Атомные электростанции, которые действуют на территории областей Центрально-Чернозёмного района

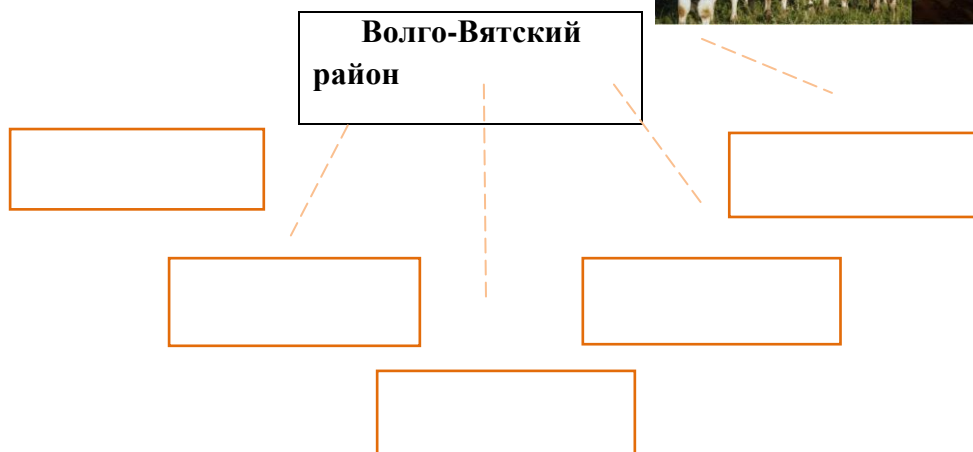
- А) Курская и Воронежская Б) Белгородская и Курская
В) Воронежская и Липецкая Г) Липецкая и Белгородская



Карточка 3. *Волго-Вятский экономический район.*

Задание 1.

Субъекты в составе Волго-Вятского района:



Задание 2. Какую особенность экономико-географического положения имеет Волго-Вятский район?

- А) Не имеет выхода к Мировому океану Б) Не имеет границ с другими районами России
В) Не имеет границ с зарубежными государствами Г) Расположен сразу в двух частях света — в Европе и Азии

Задание 3. Какие запасы полезных ископаемых имеются в Волго-Вятском районе?

- А) Медной руды Б) Фосфоритов В) Железной руды
Г) Уголь

Задание 4. Установите соответствие между субъектами Волго-Вятского района и их крупными городами

А) Республика Чувашия	1) Йошкар-Ола
Б) Республика Мордовия	2) Дзержинск

В) Нижегородская область	3)Саранск
Г) Республика Марий Эл	4)Новочебоксарск

Задание 5. Какая из отраслей специализации не относится к Волго-Вятскому району?

- А) Машиностроение Б) Деревообрабатывающая и лесная промышленность
 В) Чёрная металлургия Г) Химическая промышленность

Задание 6. Какой город является центром автомобилестроения Волго-Вятского района? А) Тольятти Б) Киров В) Павлово Г) Нижний Новгород

Задание 7. Напишите какие народы проживают на территории Волго-Вятского района:



Карточка 4. *Северо-Западный экономический район*

Задание 1. В состав Северо-Западного района входят:

- А) 4 республики, 9 областей, 2 автономных округа
 Б) 1 республика, 7 областей, 1 город Федерального подчинения, 2 автономных округа
 В) 2 республики, 7 областей, 1 город Федерального подчинения, 1 автономный округ
 Г) 2 республики, 6 областей, , 1 город Федерального подчинения, 1 автономный округ

Задание 2. На какой отрасли машиностроения специализируется Санкт-Петербург?

- А) Энергетического и сельскохозяйственного машиностроения
 Б) Автомобилестроение и судостроение В) Сельскохозяйственное машиностроение
 Г) Энергетическое машиностроение и судостроение

- А) Кёнигсберг Б) Тифлис
В) Переяслав Г) Ленинград

Задание 3. Укажите одну из главных отраслей специализации Калининградской области

- А) Нефтеперерабатывающая промышленность
Б) Сельское хозяйство В) Рыбная промышленность Г) Чёрная металлургия

Задание 4. Укажите в каком Федеральном округе находится Калининградская область

Задание 5. Укажите необычный минеральный ресурс, который добывается в Калининграде

- А) Изумруд Б) Алмаз В) Мрамор Г) Янтарь

Задание 6. Укажите какое море омывает Калининградскую область:

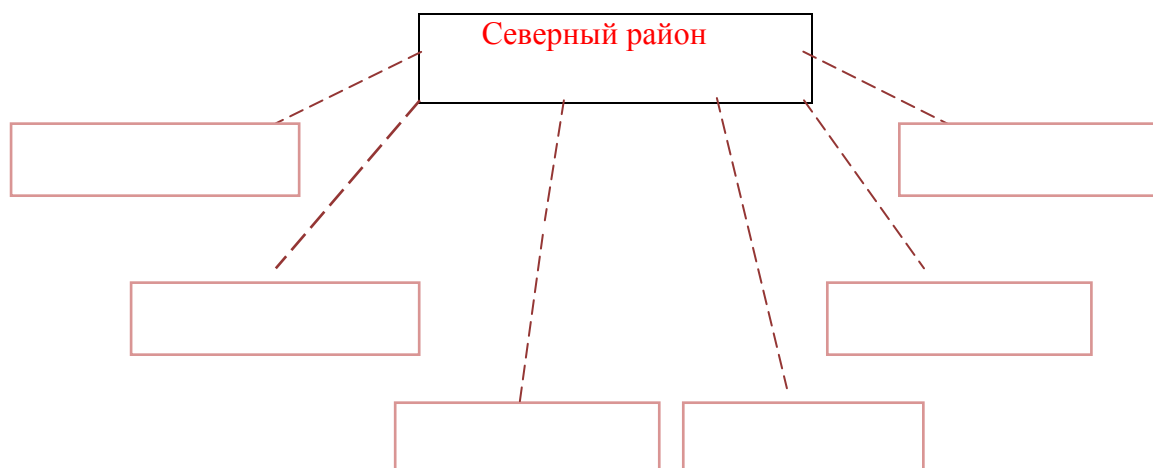
Задание 7. Найдите ошибку в списке характеристик области

- А) Развиты рыбная промышленность и транспортное машиностроение
Б) Основная база Балтийского флота расположена на его территории
В) Морские порты заморожены
Д) Имеются ресурсы для курортной экономики



Карточка 6. Европейский Север - экономический район

Задание 1. Заполните схему субъектов Северного района



Задание 2. С какими государствами граничит Северный район?

Задание 3. Укажите самый большой город по численности населения и главный морской порт Северного района А) Мурманск Б) Нарьян-Мар

В) Петрозаводск Г) Архангельск

Задание 4. Какая из отраслей специализации не относится к Северному району?

А) Лёгкая Б) Топливная В) Химическая Г) Рыбная промышленность

Задание 5. Укажите главную зерновую культуру, которую выращивают в Северном районе А) Пшеница и ячмень Б) Овёс и кукуруза В) Ячмень и овёс Г) Кукуруза и пшеница

Задание 6. Установите соответствие между регионами Северного района и добываемыми в них полезными ископаемыми

А) Ненецкий автономный округ	1) нефть и газ
Б) Республика Карелия	2) железная руда и апатиты
В) Вологодская область	3) мрамор и слюда
Г) Мурманская область	4) ископаемые не добываются

Задание 7. Укажите ведущую отрасль животноводства Северного района

А) Оленеводство Б) Овцеводство В) Свиноводство Г) Скотоводство



Карточка 7. Поволжский экономический район

Задание 1. Напишите субъекты, входящие в состав Поволжского района

Задание 2. Поволжский район граничит со следующим государством:

А) Казахстан Б) Украина В) Минск Г) Грузия

Задание 3. Укажите самый крупный город Поволжского района:

А) Волгоград Б) Астрахань В) Самара Г) Пенза

Задание 4. Укажите количество городов-миллионеров Поволжского района:

А) Ни одного Б) Два В) Три Г) Шесть

Задание 5. На каких отраслях промышленности специализируется

Поволжский район? А) Цветная металлургия Б) Машиностроение

В) Химическая промышленность Г) Деревообрабатывающая промышленность

Задание 6. Какие природные ресурсы не добываются в Поволжском районе?

А) Химическое сырьё Б) Топливные ресурсы

В) Гидроэнергетические ресурсы Г) Руды металлов

Задание 7. Установите соответствие между регионами Поволжского района и их отраслью специализации:

А) Самарская область и Татарстан	1) пищевая промышленность
Б) Тольятти, Ульяновск, Волгоград, Казань	2) машиностроение
В) Волгоград	3) чёрная металлургия
Г) Самара, Саратов, Астрахань, Волгоград, Казань	4) нефтедобыча и нефтепереработка



Карточка 8. *Крымский экономический район*

Задание 1. Укажите субъекты, входящие в состав Крымского Федерального округа

.....

Задание 2. Городом федерального значения в Крыму является

А) Ялта Б) Симферополь В) Севастополь Г) Феодосия

Задание 3. Когда Крым вошёл в состав современной России? А) 6 июня 2018 года

Б) 8 марта 2016 года В) 18 марта 2020 года Г) 18 марта 2014 года

Задание 4. С каким зарубежным государством Крым граничит по суше?

А) Украина Б) Болгария В) Белоруссия Г) Польша

Задание 5. Какие природные ресурсы имеются на территории Крымского полуострова?

А) Лесные Б) Рекреационные В) Минеральные Г) Охотничье-промысловые

Задание 6. Какая отрасль экономик в большей степени принадлежит Крыму?

А) Туризм Б) Промышленность

В) Сельское хозяйство Г) Добывающие отрасли


Задание 7. Укажите верные утверждения:

А) Численность населения полуострова составляет 10 млн. человек

Б) Крымский п-ов омывает два моря: Азовское и Чёрное моря

В) В Крымском п-ове высока доля сельского населения

Г) Самой полноводной рекой Крыма является Альма



Карточка 9. Северо - Кавказский экономический район

Задание 1. Какой регион входит в состав Северо - Кавказского района?

- А) Яровая пшеница
- Б) Ячмень
- В) Овёс
- Г) Кукуруза



Карточка 11.
Западно-Сибирский

экономический район.

Задание 1В состав Западно-

Сибирского района входят :А) 6 областей ,3 республики, 4 края Б) 5

областей, 2 автономных округа, 1 республика ,2 края

В) 8 областей, 2 республики, 1 край. 2 автономных округа

Г) 5 областей, 2 автономных округа, 1 республика, 1 край

Задание 2. Какая природная зона преобладает в Западно-Сибирском районе:

- А) Тайга Б) Лесотундра и тундра В) Степи и лесостепи Г) горная территория

Задание 3. Количество городов-миллионеров Западно-Сибирского района:

- А) Ни одного Б) Пять В) Два Г) Один

Задание 4. Большая часть Западно-Сибирского района относится к бассейну реки:

- А) Енисей Б) Обь В) Урал Г) Печора

Задание 5. Укажите какая отрасль промышленной специализации не относится к Западно-Сибирскому району: А) Химическая промышленность
Б) Машиностроение В) Топливная Г) Лёгкая промышленность

Задание 6. Какие месторождения отсутствуют в Западно-Сибирском районе:
А) Оловянной руды Б) Железной руды В) Глауберовой соли Г) Каменного угля

Задание 7. Установите соответствие между регионами Западно-Сибирского района и их отраслями специализации:

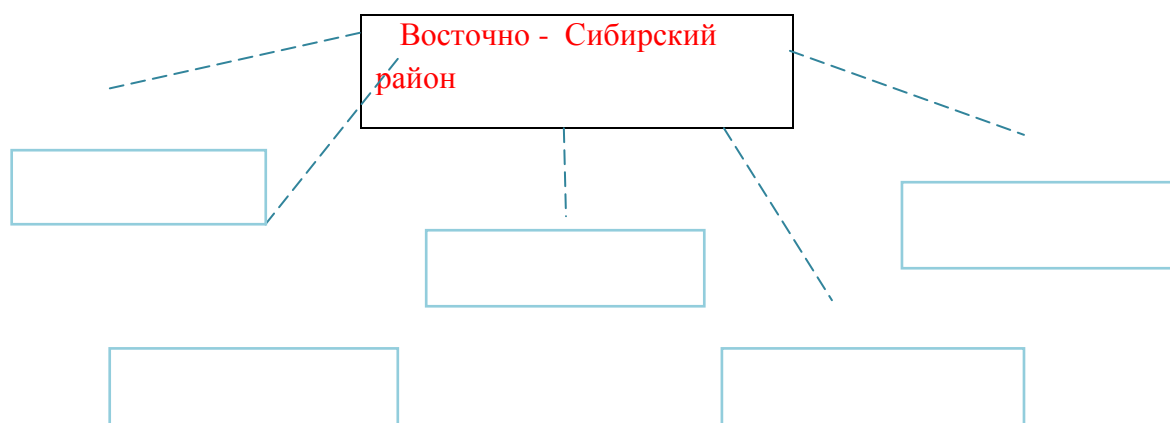
А) Новокузнецк и Новосибирск	1) химическая промышленность
Б) Омск, Тюмень, Новоалтайск, Новокузнецк	2) лесная промышленность
В) Барнаул, Кемерово, Омск, Томск	3) чёрная металлургия

Г) Нижневартовск, Новосибирск, Омск	4) пищевая промышленность
Д) Асино, Сургут, Нижневартовск	5) машиностроение



Карточка 12. Восточно-Сибирский экономический район

Задание 1. Заполните схему субъектов Восточно-Сибирского района



Задание 2. Укажите с какими зарубежными государствами граничит Восточно-Сибирский район

.....

Задание 3. Укажите количество городов-миллионеров Восточно-Сибирского района

А) Три Б) Ни одного В) Два Г) Пять

Задание 4. Укажите самый крупный город Восточно-Сибирского района:

А) Новосибирск Б) Норильск В) Иркутск Г)
Красноярск


Задание 5. На какой отрасли промышленности специализируется Восточно-Сибирский район: А) Промышленность строительных материалов Б) Лесная и деревообрабатывающая

В) Лёгкая промышленность Г) Машиностроение

Задание 6. Укажите вид транспорта, на котором завозится основная часть грузов в Восточно-Сибирские районы: А) Речной
Б) Железнодорожный В) Авиационный
Г) Автомобильный

Задание 7. Цветная металлургия Восточно-Сибирского района лидирует в России по производству:

А) Олова Б) Золота
В) Свинца Г) Алюминия



Карточка 13. *Дальневосточный экономический район*

Задание 1. Какой из перечисленных регионов не относится к Дальневосточному району: А) Амурская область Б) Хабаровский край В) Красноярский край
Г) Магаданская область

Задание 2. Напишите с какими зарубежными государствам граничит Дальневосточный район:

Задание 3. Укажите регион Дальневосточного района, который имеет самую большую плотность и численность населения: А) Камчатская область
Б) Корякский автономный округ В) Приморский край Г) Амурская область

Задание 4. Укажите самый восточный город Дальневосточного района:

А) Уссурийск Б) Комсомольск В) Хабаровск Г) Анадырь

Задание 5. Отрасль промышленной специализации Дальневосточного района:

А) Машиностроение Б) Цветная металлургия В) Химическая промышленность
Г) Чёрная металлургия

Задание 6. Какие полезные ископаемые в большей части сконцентрированы в Дальневосточном районе: А) Газ и нефти Б) Нефть и олово В) Золото и олово Г) Золото и нефть

Задание 7. Установите соответствие между субъектами Дальневосточного района их столицами:

А) Республика Саха (Якутия)	1) Благовещенск
Б) Чукотский АО	2) Анадырь
В) Амурская область	3) Биробиджан
Г) Еврейская АО	4) Петропавловск-Камчатский
Д) Приморский край	5) Якутск
Е) Камчатский край	6) Владивосток



Ответы:

Карточка 1 Центральный экономический район	
1	в
2	а
3	а в г
4	б
5	б
6	а г е
7	б

Карточка 2 Центрально-Чернозёмный экономический район	
1	в
2	Воронеж
3	г
4	Выращивание зерновых культур, подсолнечника, картофеля, животноводство свекловодство
5	в
	а-3 б-2 в-5 г- 1 д- 4

Карточка 3 Волго-Вятский экономический район	
1	Республика Марий Эл, Республика Мордовия, Чувашская Республика, Нижегородская обл., Кировская обл.
2	в
3	б
4	а-4 б-3 в -2 г-1
5	в
6	г
7	Русские, чувашы, мордва, марийцы

Карточка 4 Северо-Западный экономический район	
1	в
2	б
3	в
4	г
5	Эстония, Латвия, Финляндия, Белоруссия
6	в

7	а
---	---

Карточка 5 Калининградская область

1	в
2	а
3	в
4	Северо-Западный
5	г
6	Балтийское
7	в

Карточка 6 Европейский Север

1	Республика Карелия, Республика Коми, Мурманская обл., Архангельская обл., Вологодская обл., Ненецкий АО.
2	Норвегия и Финляндия
3	а
4	а
5	в
6	а-1 б-3 в-4 г-2
7	г

Карточка 7 Поволжский район экономический район

1	Республика Татарстан, Республика Калмыкия, Ульяновская обл., Пензенская обл., Самарская обл., Саратовская обл., Волгоградская обл., Астраханская обл.
2	а
3	в
4	б
5	в
6	г
7	а-4 б-2 в-3 г-1

Карточка 8 Крымский экономический район	
1	Республика Крым, Севастополь
2	В
3	Г
4	А
5	Б
6	А
7	Б, В

Карточка 9 Северо - Кавказский экономический район.	
1	г
2	а
3	а
4	г
5	г
6	б
7	а-4 б-2 в-1 г-3

Карточка 10. Уральский экономический район.	
1	Республика Башкортостан, Удмуртская Республика, Пермская обл., Свердловская обл., Челябинская обл., Курганская обл., Оренбургская обл., Коми-Пермяцкий АО.
2	б
3	в е
4	а
5	в
6	г
7	а

Карточка 11 Западно-Сибирский экономический район	
1	г
2	а
3	в
4	б
5	г
6	а
7	а-3 б-5 в-1 г-4 д-2

Карточка 12 Восточно - Сибирский экономический район	
1	Республика Тыва, Республика Хакасия, Красноярский край, Иркутская область, Республика Бурятия, Забайкальский край
2	Монголия, Китай
3	б
4	г
5	б
6	а
7	г

Карточка 13 Дальневосточный экономический район	
1	в
2	Китай, КНДР, США, Япония
3	в
4	г
5	б
6	в
7	а-5 б-2 в-1 г-3 д-6 е-4

Список литературы.

- **География. География России. Хозяйство и географические районы. 9 класс. А.И.Алексеев, В.А.Низовцев, Э.В.Ким, Г.Я.Лисенкова, В.И.Сиротин. 2018 год**
- **Поурочные разработки по географии. Население и хозяйство России. 9 класс. Е.А.Жижина. 2018 год.**
- **Тесты по географии. 9 класс. Е.В.Баранчиков. 2016 год.**